

HOJA DE ESTIMULACIÓN COGNITIVA IGUALA3,18.2023

1.- COMPLETA LA SIGUIENTE TABLA

Día de la semana	Día del mes	Mes	Año	Hora

2.- RESUELVE LOS PROBLEMAS:

Pepe se comió 5 mandarinas y María 3, ¿Quién comió más mandarinas?
¿Cuántas más?

Francisco tiene 38 años y su primo Andrés tiene 12,
¿Cuántos años se llevan?
Dentro de 40 años, ¿Cuántos años tendrán cada uno?











¿Cuántos **días** hay en una semana?

¿Y en tres semanas?

¿Y en cinco semanas?

¿Cuántos bolis tienes que quitar de 10 para que solo queden 2?

3.- REALIZA LAS OPERACIONES SIGUIENDO EL SIGUIENTE CÓDIGO:

									
0	1	2	3	4	5	6	7	8	9

  +   =

   -   =

   +    =

  -   =

   +   =

   -    =

4.- ENCUENTRA EN CADA FILA DE LETRAS UNA PALABRA Y RODÉALA.

ARTSPATORSTMZINS
FRISMTUMNATARAST
RBDLLAVELTJIPSLOM
PRTPTYPUERTATYHJ
TRSCREMALSCTKLLD
ASEÑORCAIUHDJJDF

STSOLMNTTOZZAERS
SLKIWISROMUITUSM
MONTRMARTZUSMOI
YUOIZFOSLANAMRTA
SLAMNOPRTRAMOLT
JADNHFB DJKRADIOP

5.- SIGUE LAS SIGUIENTES INDICACIONES:

1º DIBUJA UN CÍRCULO:

2º ESCRIBE EL RESULTADO DE 51×6 DENTRO DEL CÍRCULO.

3º DIBUJA UN RECTÁNGULO A LA DERECHA DEL CÍRCULO.

4º ESCRIBE EL RESULTADO DE $130 - 100$ DEBAJO DEL RECTÁNGULO.

4º DIBUJA UN TRIÁNGULO A LA IZQUIERDA DEL CÍRCULO.

5º ESCRIBE EL RESULTADO DE $354 + 157$ ENCIMA DEL TRIÁNGULO.

6º ESCRIBE TU NOMBRE DENTRO DEL RECTÁNGULO.

7º ESCRIBE TU EDAD DENTRO DEL TRIÁNGULO.